

PRUEBA ACCESO A CICLOS FORMATIVOS DE GRADO SUPERIOR	Junio 2018 OPCIÓN A: GEOGRAFÍA
--	-----------------------------------

DATOS DEL ASPIRANTE		CALIFICACIÓN PRUEBA
Apellidos:		Nombre:
DNI o Pasaporte:	Fecha de nacimiento: / /	

Instrucciones:

- De los seis ejercicios siguientes elige y responde solo a cuatro de ellos, cumplimentado todos sus apartados si los tuviera.
- Lee atentamente las preguntas antes de contestar.
- Las respuestas deben limitarse a las cuestiones formuladas. Cualquier información adicional que no se corresponda con lo planteado, no será evaluada. En caso de responder a más de cuatro ejercicios, solo se corregirán y calificarán los cuatro primeros.
- La puntuación máxima de cada ejercicio está indicada en su enunciado. Se calificará atendiendo al conocimiento de la materia, la precisión de las respuestas, la claridad expositiva y la utilización correcta del lenguaje.
- Revisa cuidadosamente la prueba antes de entregarla.

1. Las tres imágenes siguientes muestran tres tipos de paisajes geomorfológicos de nuestro relieve. Obsérvalas y responde a las siguientes preguntas:
(2,5 puntos; 0,5 los apartados A, B, C y 1 el D)



Imagen 1. Torcal de Antequera



Imagen 2. Sierra de Eljas



Imagen 3. Bárdenas Reales

Imágenes de Wikipedia bajo licencia CC.

- A.** Cada imagen se corresponde con un tipo de roquedo: arcilloso, calizo o silíceo. Indícalo:

- Imagen 1:
- Imagen 2:
- Imagen 3:

- B.** Relaciona cada elemento siguiente con un tipo de relieve: relieve calizo - relieve arcilloso - relieve silíceo:

- Sistema central:
- Dolinas:
- Depresiones fluviales:



C. Indica si las siguientes afirmaciones son verdaderas (V) o falsas (F). Corrige las falsas:

[] El granito y la pizarra son rocas silíceas.

.....

[] En las rocas arcillosas es frecuente hallar fósiles de animales marinos.

[] Las rocas volcánicas abundan en las islas Canarias.

.....

[] Una forma peculiar del relieve calizo es el tor.

D. Define brevemente los siguientes términos o expresiones:

- Litología:
- Diaclasa:
- Relieve kárstico o cárstico:
- *Badlands*:
- Campiña:

2. Observa el siguiente mapa con los climas de España y responde a las preguntas que figuran a continuación. (2,5 puntos; 0,5 por apartado)

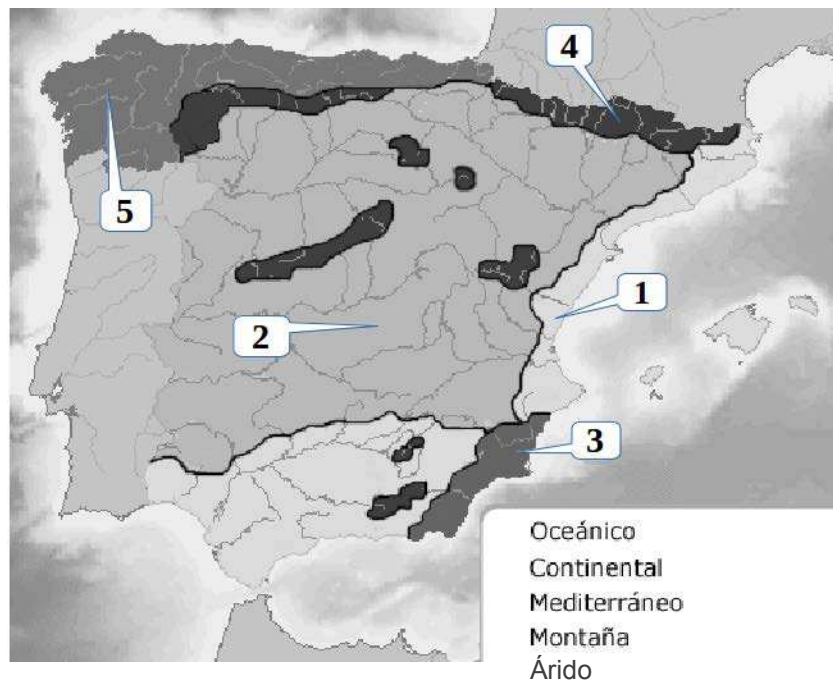


Imagen de elaboración propia a partir de Wikipedia



A. Señala con qué zona climática del mapa se corresponde cada número:

- 1.
- 2.
- 3.
- 4.
- 5.

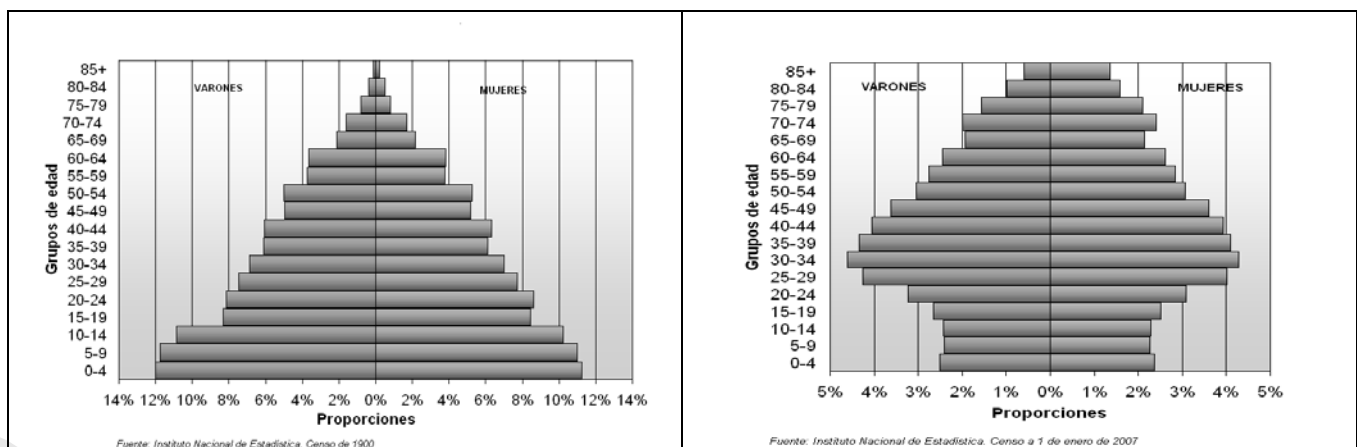
B. Explica cómo son las temperaturas en el clima oceánico. Razona la respuesta.

C. ¿Por qué razón descienden tanto las temperaturas en el clima de montaña? ¿Cómo afecta eso a las precipitaciones?

D. ¿Qué diferencia hay entre el clima mediterráneo de interior o continental y el clima mediterráneo costero? Razona la respuesta.

E. A la vista del mapa señala tres provincias en las que predomine el clima mediterráneo árido. Justifica la escasez de precipitaciones en esa zona.

3. Las siguientes gráficas representan dos pirámides de población correspondientes a dos momentos de la evolución demográfica de España. Obsévalas y responde a las siguientes cuestiones:
(2,5 puntos; 0,5 por apartado)



Imágenes de Wikipedia bajo licencia CC

A. ¿A qué ciclo demográfico corresponde la pirámide de la izquierda? Razona la respuesta.




B. Explica cómo es el crecimiento natural en la pirámide de la derecha. Razona la respuesta a partir de la imagen.

C. ¿Qué causas provocan una natalidad tan elevada en la pirámide de la izquierda y tan reducida en la de la derecha?

D. ¿Por qué razón son tan altas las cifras de población anciana en la pirámide de la derecha y qué consecuencias económicas pueden tener lugar?

E. ¿A qué se debe que en la pirámide de la derecha la distribución por sexos sea diferente en la base y en la cumbre?

4. Las siguientes fotografías aéreas representan los tres tipos de plano más habituales en las ciudades españolas. Obsérvalas y responde a las cuestiones que figuran a continuación: (2,5 puntos; 0,5 por apartado)



Imágenes de elaboración propia a partir de Google maps

A. Indica con qué tipo de plano se corresponde cada una de las imágenes

- Plano 1. |
- Plano 2.
- Plano 3.



B. ¿Con qué zona de la ciudad se corresponde el plano 2? ¿A qué momento histórico corresponde? ¿Qué funciones principales acoge esta área?

C. Describe brevemente el plano 3. ¿Con qué época de la evolución urbana se corresponde?

D. Determina qué ventajas e inconvenientes presenta el plano 1.


E. Escribe al lado de cada una de las características siguientes la zona que la presenta: casco antiguo, ensanche o periferia urbana:

- Ofrece buenas comunicaciones y suelo más barato:
- El plano suele ser irregular:
- Se construye para ampliar la ciudad fuera de sus murallas originales:
- Un ejemplo representativo es el barrio de Salamanca en Madrid:
- Pueden localizarse zonas de infravivienda que no cuentan con servicios básicos:

5. Tras la crisis del petróleo de 1973 tuvo lugar en el último cuarto del siglo XX una crisis industrial que provocó el cierre o reconversión de muchas industrias con consecuencias políticas, económicas y sociales. Junto a instalaciones que quedaron abandonadas y otras sin embargo han sido objeto de reutilización. El autor del siguiente texto nos presenta ambas situaciones. Léelo con atención y responde a continuación a las siguientes preguntas: (2,5 puntos; 0,5 por apartado)

Las ciudades de tradición industrial sujetas a procesos de reestructuración y ajuste de su base productiva no siempre siguen estrategias similares de adaptación al nuevo escenario socioeconómico. Los ejemplos de Avilés y Ponferrada son elocuentes de las distintas opciones urbanas en los procesos de cambio funcional y, más específicamente, en la gestión y reutilización del patrimonio industrial y los suelos industriales obsoletos y abandonados. Avilés demuestra, a lo largo de un proceso de casi dos décadas, capacidad para superar la crisis y reinventarse a sí misma mediante acciones y proyectos que generan una imagen moderna y dinámica, a la vez que construyen los paisajes del siglo XXI en clave de renovación urbana y sobre la base de nuevas funciones productivas que incluyen la cultura y el patrimonio industrial como valor añadido. En el obsoleto escenario siderúrgico está tomando forma un paisaje urbano de nuevo cuño con una interesante combinación de vieja y nueva industria; usos culturales y recreativos, y arterias urbanas rejuvenecidas. En suma, una verdadera metamorfosis urbana.

Ponferrada siguió una trayectoria diferente: en su quehacer institucional permanece ausente una estrategia dirigida al reaprovechamiento de su pasado industrial. La herencia de la ciudad no es vista como una oportunidad para su relanzamiento; bien al contrario, se considera una pieza más en la producción de la ciudad, sostén de nuevos espacios residenciales sometidos al mercado inmobiliario, generando grandes beneficios a diferentes actores socioeconómicos (Ayuntamiento, constructores, gran distribución comercial, cadenas hoteleras). No existe una visión política coherente sobre lo que debe ser la ciudad, únicamente hay adaptación, más o menos interesada, a una nueva



base económica crecientemente terciarizada; y, por supuesto, escapando de cualquier iniciativa de crear imagen. Ponferrada, antes una ciudad netamente industrial, pierde personalidad y se asemeja a tantas otras urbes que ven en la producción de suelo residencial y la venta de viviendas un sostén básico de su economía.

Paz Benito del Pozo y Alejandro López González, *Estudios Geográficos*, 2008

A. El texto menciona dos ciudades que en el último cuarto del siglo XX se vieron sometidas a un proceso de reestructuración y reconversión industrial. Define brevemente en qué consistió dicho proceso.

B. En el caso de Avilés, ¿cómo afronta la crisis industrial?

C. Explica que diferencias observa el autor entre el caso de Avilés y el de Ponferrada.

D. ¿Qué coyuntura o situación política tenía lugar en España durante estos años?

E. ¿Qué consecuencias trajo el final del ciclo tecnológico y el consiguiente proceso de reconversión al sector industrial en España?

6. Responde a las siguientes cuestiones relacionadas con la Unión Europea:
(2,5 puntos; 0,5 los apartados A, B, C y D y 1 el D)

A. En la actualidad la Unión Europea la integran 26 países si tenemos en cuenta la salida de Gran Bretaña (Brexit.) ya iniciada. La incorporación de los distintos países ha sido progresiva: desde su fundación en 1951 hasta las últimas incorporaciones en 2013. Ordena los siguientes países de mayor antigüedad dentro de la comunidad a más reciente incorporación:

Bélgica // Bulgaria // Dinamarca // España // República checa

B. El Consejo Europeo, el Parlamento Europeo y la Comisión Europea son los tres principales organismos de la Unión Europea. Con cuál se corresponde cada una de las siguientes descripciones:

- Está formado por un presidente y un comisario por cada estado miembro que se encarga de un área concreta de la política comunitaria:
- Sus miembros son elegidos por sufragio universal cada cinco años, representan a todos los ciudadanos de la Unión Europea. Tiene el poder legislativo:



- Está formado por los jefes de Estado o de gobierno de los países miembros, el presidente del Consejo Europeo y el presidente de la Comisión Europea:
- C.** La Unión Europea lleva a cabo una serie de políticas concretas para el desarrollo de sus países miembros. Las más importantes son los Fondos de cohesión, la Política agraria comunitaria y los Fondos estructurales. Señala con qué objetivos se corresponde cada una:
- Aumentar la productividad, estabilizar los mercados, garantizar la seguridad de los suministros y asegurar precios razonables al consumidor:
 - La financiación de proyectos relacionados con el medio ambiente y las redes de transporte transeuropeas:
 - Combatir las desigualdades socioeconómicas de las distintas regiones europeas:
- D.** Localiza en el mapa de la Unión Europea los países que aparecen numerados:

